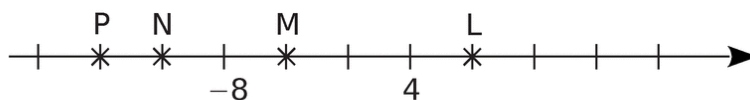


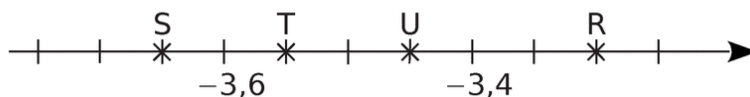
TAF S 14

EXERCICE 1 :

Dans chacun des cas, donne l'abscisse des points :



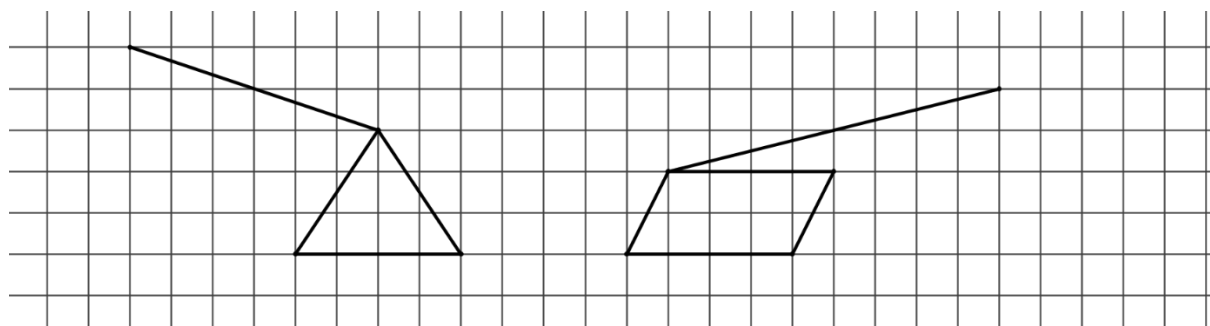
L(.....) ; M(.....) ; N(.....) ; P(.....).



R(.....) ; S(.....) ; T(.....) ; U(.....).

EXERCICE 2 :

Complète la figure pour obtenir la représentation en perspective cavalière de prismes droits.



EXERCICE 3 :

Eloïse a décidé de faire un gâteau au chocolat pour son anniversaire.

Voici les ingrédients nécessaires de la recette :

- 200 g de chocolat noir
- 4 œufs
- 125 g de beurre
- 200 g de sucre
- 100 g de farine
- 1 sachet de levure.

En rentrant des courses, Eloïse s'aperçoit qu'elle a oublié d'acheter les œufs ! Elle n'en a plus que 3 dans son frigo !

Aide-la à déterminer la quantité nécessaire de chaque ingrédient pour réaliser la recette sachant qu'elle n'utilise que 3 œufs.