

EXERCICE 1 : Souvenirs, souvenirs ...

Carte de France à coller sur la copie

Cet été, Super Héros a passé ses vacances en France.

Tu vas devoir replacer sur la carte les trois villes V1, V2 et V3 qu'il a visitées, après avoir lu les informations suivantes :




Salut à toi, jeune élève

*Je suis d'abord allé me reposer à V1.
Cette ville est à l'est du Rhône.
Elle est telle que :
 $\widehat{ABV1} = 45^\circ$ et $\widehat{BAV1} = 58^\circ$.*

*Je suis ensuite allé voir Super Mamie.
Elle habite à V2 qui est le symétrique de C par rapport à la droite (AB)*

Enfin, je suis parti à V3 dans un centre de remise en forme. V3 est le point d'intersection de la parallèle à la droite (BV1) passant par A et la droite (BC).

*Bonne rentrée à toi !
Super Héros*


EXERCICE 2 :

Sur la copie

Les vacances sont loin.

Super Héros doit se remettre au travail...

Il veut ouvrir son coffre-fort pour y sortir son super ordinateur.

Malheureusement, dans la précipitation, il a oublié la combinaison.

Il a déjà effectué 5 essais :



1	5	7	DEUX CHIFFRES CORRECTS MAL PLACÉS
5	3	0	AUCUN CHIFFRE CORRECT
8	0	6	UN SEUL CHIFFRE CORRECT MAL PLACÉ
5	4	8	UN CHIFFRE CORRECT BIEN PLACÉ
6	4	7	UN SEUL CHIFFRE CORRECT MAL PLACÉ



LE COFFRE AFFICHE : UN SEUL ESSAI RESTANT
AVANT DESTRUCTION.

QUELLE EST LA
COMBINAISON DU COFFRE ?

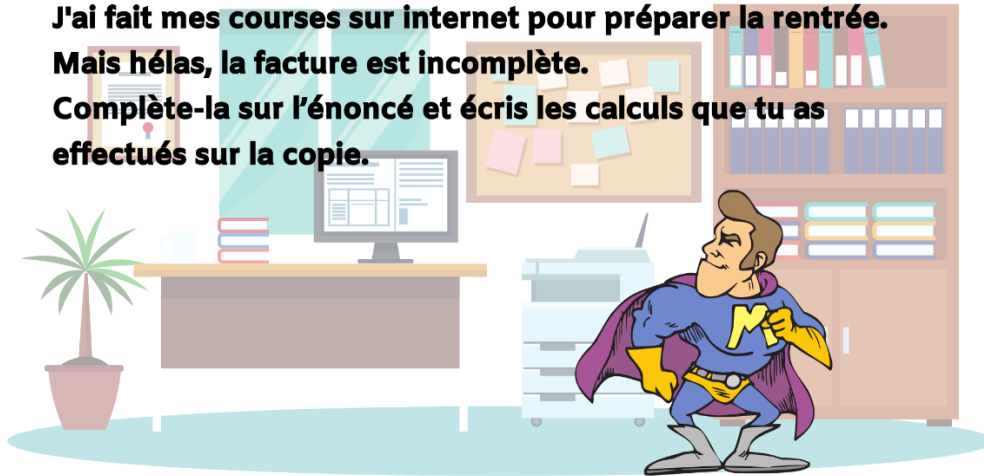


EXERCICE 3 :

sur l'énoncé et sur la copie

Super Héros a récupéré son ordinateur, il peut enfin se mettre au travail mais ...

**J'ai fait mes courses sur internet pour préparer la rentrée.
Mais hélas, la facture est incomplète.
Complète-la sur l'énoncé et écris les calculs que tu as
effectués sur la copie.**

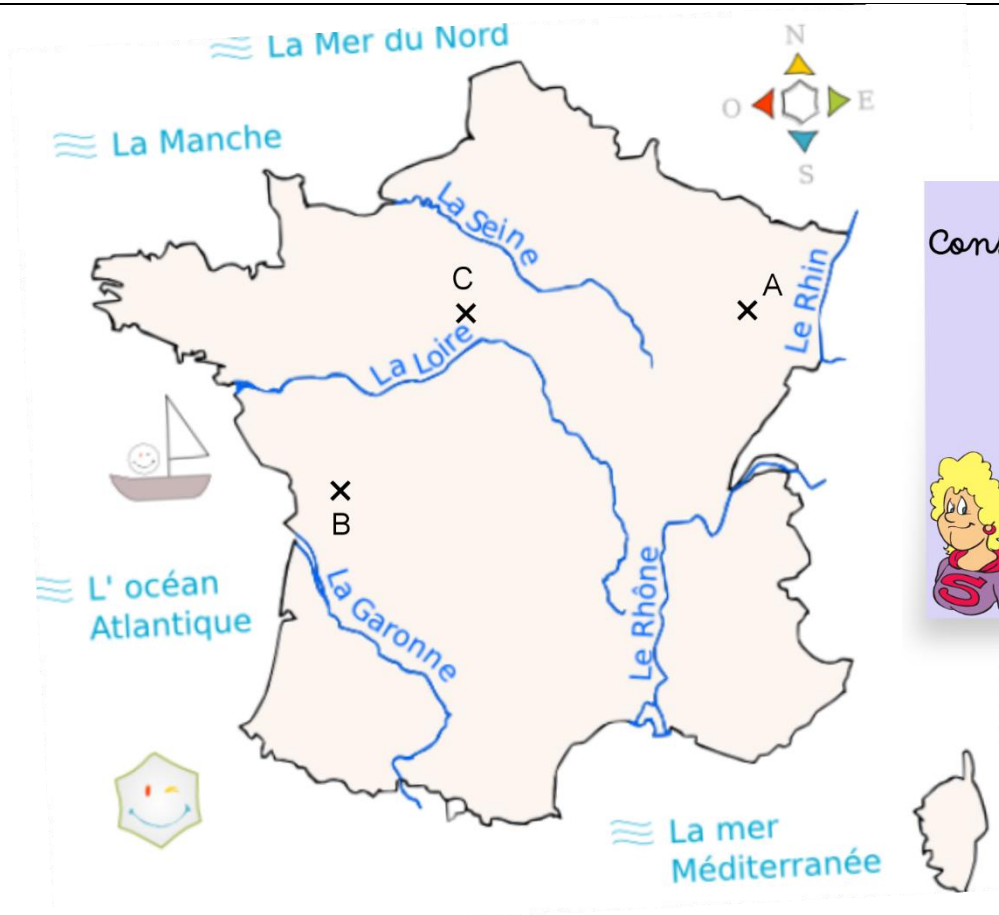


Super site du gadget pour super héros



Quantité	Nom du produit	Prix à l'unité	Total
10 puces	Puce électronique € la puce	53,40 €
15 micros	Micro enregistreur € le micro	180 €
48 masques	Masque noir	3,50 € la boîte de 6 €
5 lampes	Lampe infrarouge	0,95 € la lampe €
750 g	Poudre d'escampette	2,80 € le kg €
.... kg	Poudre de perlimpinpin	3 € le kg	6,75 €
3 bracelets	Bracelet détecteur de métal € le bracelet €
		Total	297,50 €
		Frais de port	10,50 €
		Total à payer €

EXERCICE 1 : Carte de France à coller sur la copie



Conseil de Super Mamie

N'oublie pas
de laisser tous
les traits de
construction.

