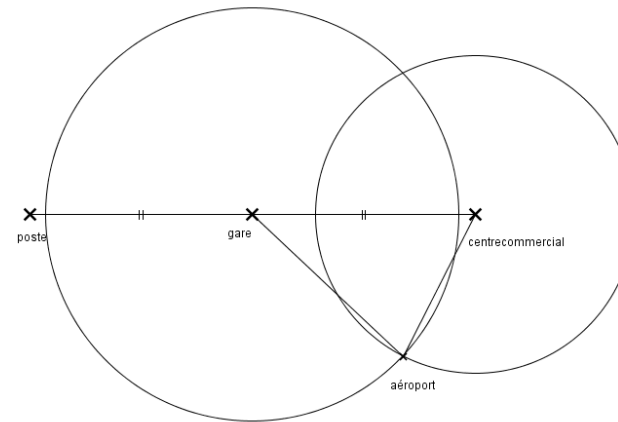
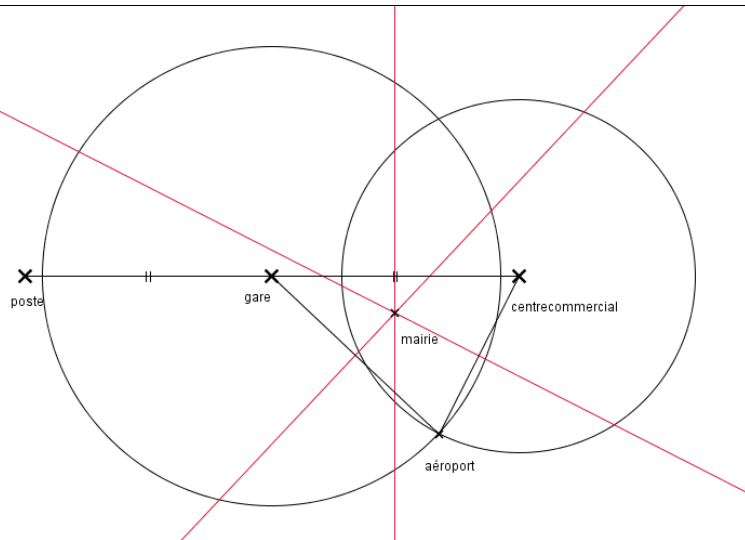


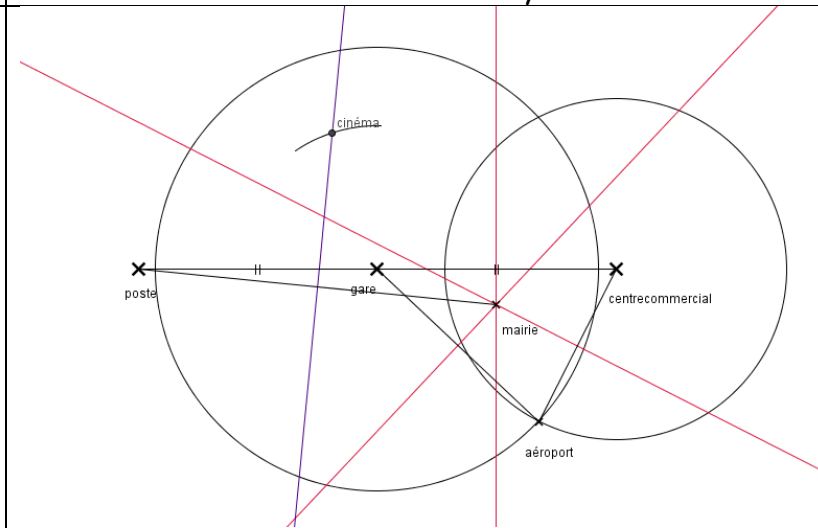
EXERCICE 1



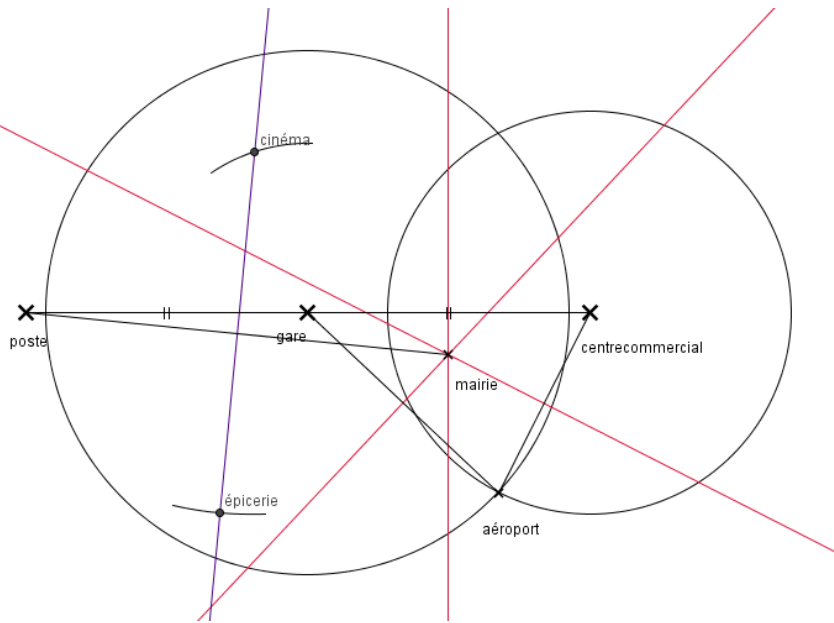
J'ai tracé le cercle de centre la gare et de rayon 6,5 cm et le cercle de centre le centre commercial et de rayon 5 cm.



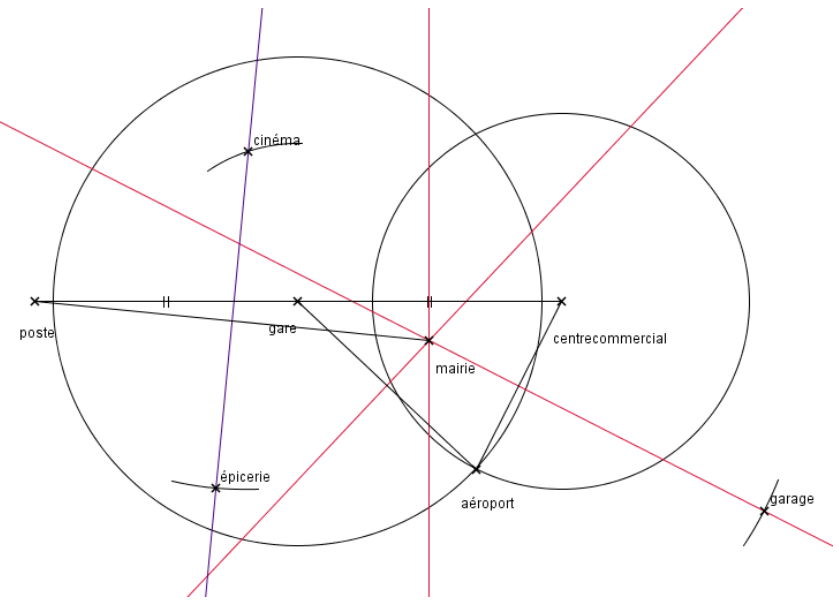
J'ai tracé les trois médiatrices du triangle gare aéroport commercial. Centre (deux suffisent).



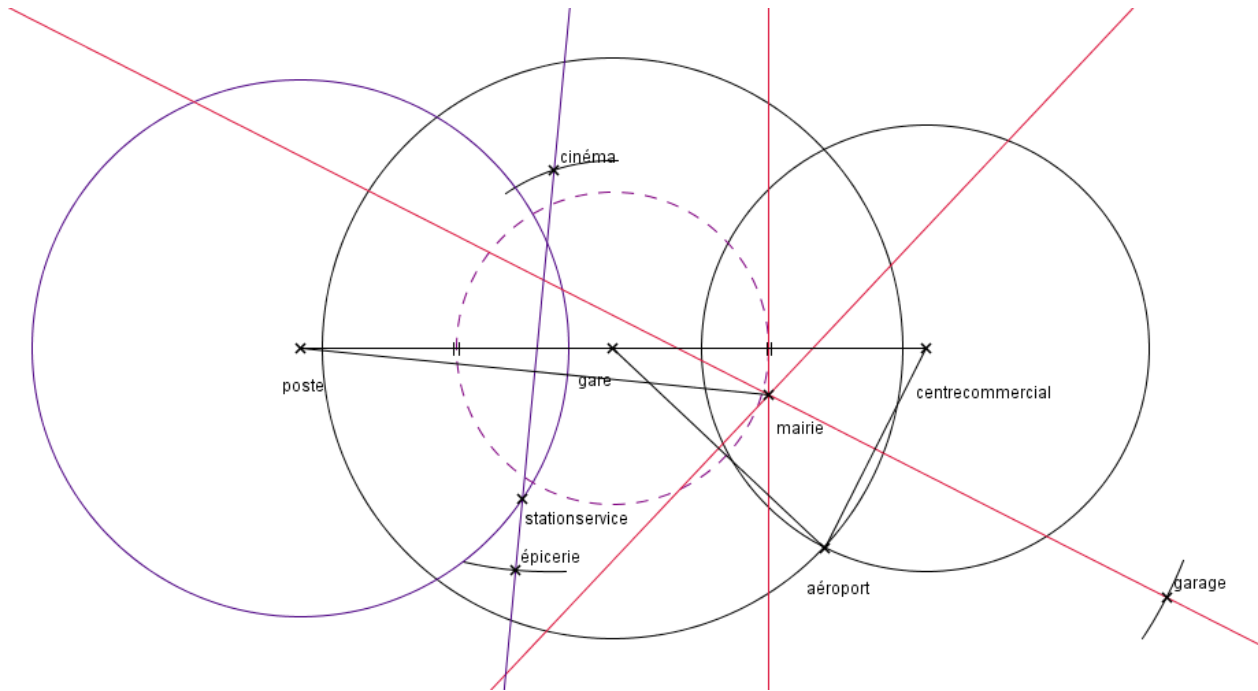
J'ai tracé la médiatrice du segment [poste mairie] et je place le cinéma sur cette médiatrice à 4,2 cm de la gare. (J'utilise le compas).



Je place l'épicerie sur la médiatrice du segment [poste mairie] à 9 cm du cinéma.



Je place le garage sur la médiatrice du segment [aéroport centre commercial] à 10 cm de la mairie.



Je trace le cercle de centre la poste et de rayon 6 cm. Je trace le cercle de centre la gare et de rayon 3,5 cm.
 La station-service est à l'intersection de la droite (épicerie cinéma) et du cercle de centre la poste de rayon 6 cm et à l'extérieur du disque de centre la gare et de rayon 3,5 cm.

EXERCICE 2

1.

S	P	M	H	E	I	Y	N	O
-13,5	-8	-13,35	-6	14,49	12	-13,45	7,8	0

2. Rangement des nombres dans l'ordre croissant :

$$-13,5 < -13,45 < -13,35 < -8 < -6 < 0 < 7,8 < 12 < 14,49$$

Le mot est SYMPHONIE.