

Travail pour la semaine 13 du au

Pour le

Je calcule la somme qu'a donnée Vincent :

$$60 \text{ €} - 14 \text{ €} = 46 \text{ €}$$

Vincent a donné 46 €.

Je calcule la somme qu'a donnée Philippe :

$$138 \text{ €} - (60 \text{ €} + 46 \text{ €}) = 138 \text{ €} - 106 \text{ €} = 32 \text{ €}$$

Philippe a donné 32 €.

Pour le

Pour chaque nombre, compléter la phrase :

Dans 47 123,52 :

2 est le chiffre des **dizaines** et le chiffre des **centièmes**.

Dans 147 879, 032 :

Le chiffre des centaines de mille est **1** ; la partie décimale est **0,032** .

Dans 879,326 :

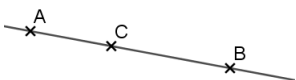
Le chiffre des dizaines est **7** ; celui des millièmes est **6** et 9 est le chiffre des **unités**.

Pour le

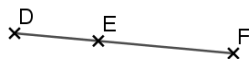
Vrai ou faux ?

- a. Si $C \in (AB)$ alors $A \in (BC)$: VRAI
- b. Si $E \in [DF]$ alors $D \in [EF]$: FAUX
- c. Si $C \in [AB)$ mais $C \notin [AB]$ alors $A \in [CB)$: VRAI
- d. Si $C \in [BA)$ mais $C \notin [AB]$ alors $B \in [AC)$: FAUX


Dessin du a.



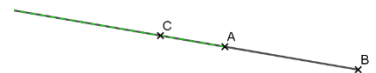
Dessin du b.



Dessin du c.
Demi-droite [CB) en rouge



Dessin du d.
Demi-droite [AC) en vert



Pour le

Je calcule la dépense totale :

$$210 + (6 \times 34) + 120$$

$$= 210 + 204 + 120$$

$$= 534$$

Ils vont payer 534 €.