

Travail pour la semaine 14 du


..... au

Pour le

Pour son stage en parapente, une association demande une cotisation de 150 € à l'inscription, puis 70 € par jour.

Combien coûte (en €) un stage de 11 jours ?

N'oublie pas le TOP !



Pour le

Recopie et complète chaque égalité.

- a. 4 unités 6 dixièmes = ... dixièmes.
- b. ... unité ... centièmes = 123 centièmes.
- c. 12 unités 37 millièmes = ... millièmes.
- d. ... unité ... dixièmes = 150 centièmes.

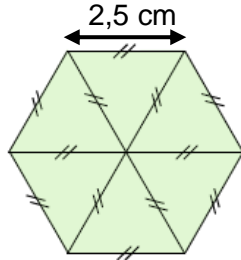
Pour le

Observer attentivement le codage de la figure ci-contre.

1. Quelle est la nature de chaque triangle de la figure ci-contre ?

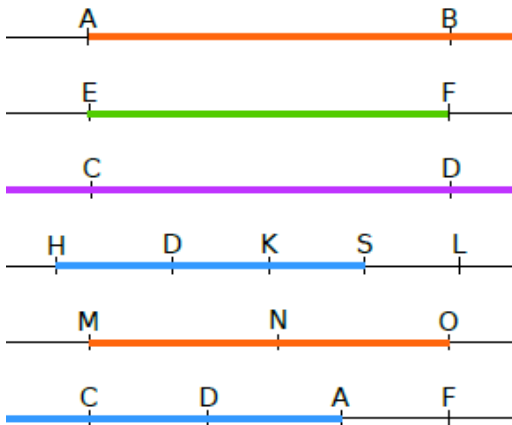
Justifier la réponse.

2. Calcule le périmètre de ce polygone.



Pour le

Dans chaque cas, nomme la partie de la droite qui a été repassée en gras.



Travail pour la semaine 14 du


..... au

Pour le

Pour son stage en parapente, une association demande une cotisation de 150 € à l'inscription, puis 70 € par jour.

Combien coûte (en €) un stage de 11 jours ?

N'oublie pas le TOP.



Pour le

Recopie et complète chaque égalité.

- a. 4 unités 6 dixièmes = ... dixièmes.
- b. ... unité ... centièmes = 123 centièmes.
- c. 12 unités 37 millièmes = ... millièmes.
- d. ... unité ... dixièmes = 150 centièmes.

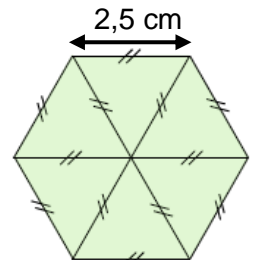
Pour le

Observer attentivement le codage de la figure ci-contre.

1. Quelle est la nature de chaque triangle de la figure ci-contre ?

Justifier la réponse.

2. Calcule le périmètre de ce polygone.



Pour le

Dans chaque cas, nomme la partie de la droite qui a été repassée en gras.

